

# МИНИСТЕРСТВО ОБРАЗОВАНИЯ ТУЛЬСКОЙ ОБЛАСТИ

## П Р И К А З

30.01.2024

№ 114

### **О проведении олимпиады по правилам дорожного движения среди учащихся начальных классов образовательных учреждений Тульской области**

В соответствии с Календарем областных массовых мероприятий для детей и молодежи Тульской области на 2024 год, Положением о министерстве образования Тульской области, утвержденным постановлением Правительства Тульской области от 29.01.2013 №16, п р и к а з ы в а ю :

1. Провести с 29 января по 29 марта 2024 года олимпиаду по правилам дорожного движения среди учащихся начальных классов образовательных учреждений Тульской области.

2. Утвердить Положение об олимпиаде по правилам дорожного движения среди учащихся начальных классов образовательных учреждений Тульской области (Приложение № 1).

3. Утвердить смету расходов на проведение олимпиады по правилам дорожного движения среди учащихся начальных классов образовательных учреждений Тульской области (Приложение № 2).

4. Организацию и проведение олимпиады по правилам дорожного движения среди учащихся начальных классов образовательных учреждений Тульской области поручить государственному образовательному учреждению дополнительного образования Тульской области «Центр дополнительного образования детей» (Грошев Ю.В.).

5. Заместителю министра - директору департамента финансирования, бухгалтерского учета, отчетности и контроля министерства образования Тульской области (Кипровская Е.Ю.) осуществить финансирование расходов

на проведение олимпиады по правилам дорожного движения среди учащихся начальных классов образовательных учреждений Тульской области за счет средств, предусмотренных на реализацию комплекса процессных мероприятий «Повышение безопасности дорожного движения в Тульской области» государственной программы Тульской области «Повышение общественной безопасности населения в Тульской области», утвержденной постановлением правительства Тульской области от 26 января 2018 г. № 35.

6. Контроль исполнения настоящего приказа возложить на заместителя министра образования Тульской области Л.Ю. Сорокину.

**Министр образования  
Тульской области**



**О.А. Осташко**

Приложение № 1  
к приказу министерства образования  
Тульской области  
от 30.01.2024 № 117

**ПОЛОЖЕНИЕ**  
**об олимпиаде по правилам дорожного движения**  
**среди учащихся начальных классов образовательных учреждений**  
**Тульской области**

**1. Общие положения**

1.1. Олимпиада по правилам дорожного движения среди учащихся начальных классов образовательных учреждений Тульской области (далее – Олимпиада) проводится с 22 января по 29 марта 2024 года министерством образования Тульской области, государственным образовательным учреждением дополнительного образования Тульской области «Центр дополнительного образования детей» (далее – ГОУ ДО ТО «ЦДОД»), совместно с Управлением Государственной инспекции безопасности дорожного движения УМВД России по Тульской области (по согласованию) в рамках реализации пункта 2.4. перечня мероприятий по реализации Подпрограммы «Повышение безопасности дорожного движения в Тульской области» государственной программы Тульской области «Повышение общественной безопасности населения в Тульской области», утвержденной постановлением правительства Тульской области от 26 января 2018 г. № 35.

**2. Цели и задачи Олимпиады**

2.1. Целями и задачами Олимпиады являются:  
повышение гражданского сознания обучающихся в вопросах предупреждения детского дорожно-транспортного травматизма;  
активизация познавательного интереса к изучению правил дорожного движения;  
создание условий для проявления творческой активности обучающихся при изучении вопросов безопасности дорожного движения;  
формирование у детей культуры законопослушного поведения на дорогах.

**3. Участники Олимпиады**

3.1. К участию в Олимпиаде приглашаются обучающиеся 1-4 классов общеобразовательных учреждений и учреждений дополнительного образования Тульской области.

3.2. Олимпиада проводится по четырём возрастным группам:

- 1 группа – обучающиеся 1 классов;
- 2 группа – обучающиеся 2 классов;
- 3 группа – обучающиеся 3 классов;
- 4 группа – обучающиеся 4 классов.

#### **4. Руководство Олимпиадой**

4.1. Общее руководство подготовкой и проведением Олимпиады осуществляет организационный комитет (далее – Оргкомитет), формируемый ГОУ ДО ТО «ЦДОД».

4.2. Оргкомитет Олимпиады утверждает состав жюри, систему экспертных оценок, организует награждение победителей и призёров, информирует об итогах Олимпиады.

#### **5. Сроки и порядок и проведения Олимпиады**

5.1. Олимпиада проводится заочно с 22 января по 29 марта 2024 года. Работы выполняются индивидуально.

5.2. Муниципальные и государственные образовательные учреждения представляют для участия в Олимпиаде:

заявку (Приложение № 1 к Положению);

конкурсные материалы (**не более 3-х работ в каждой возрастной группе**) в адрес Оргкомитета Олимпиады: бланк ответов и творческое задание;

согласие на обработку персональных данных (Приложение № 2 к Положению).

5.3. Конкурсные материалы представляются в срок до **10 марта 2024 года** по адресу электронной почты: [cdod.konkurs@tularegion.org](mailto:cdod.konkurs@tularegion.org) с обязательной пометкой «Олимпиада по ПДД».

Контактный телефон: 8(4872)31-63-84 – Шумахер Светлана Валерьевна.

#### **6. Условия проведения Олимпиады и требование к оформлению заданий**

6.1. Олимпиада состоит из вопросов по тематике ПДД для каждой возрастной группы (Приложение № 3 к Положению) и творческого задания. После заданий прилагается бланк ответов, который необходимо заполнить.

6.2. Участник Олимпиады: отвечает на вопросы, заполняя бланк ответов, выполняет творческое задание.

Олимпиадный материал высылается в электронном виде с обязательной пометкой Олимпиада ПДД. Каждая работа должна быть подписана, например: Иванов И., 1а кл., ЦО 10, г. Тула. Остальные реквизиты указываются в заявке (наименование и адрес образовательного учреждения, класс; ФИО педагога-консультанта (полностью), контактный телефон, электронный адрес).

6.3. Ответы на вопросы Олимпиады заполняются на бланке ответов, творческое задание выполняется в соответствии с требованиями.

Ответы на вопросы, творческое задание, написанные от руки, должны быть отсканированы и представлены в электронном виде.

#### **7. Критерии оценки конкурсных работ**

7.1. Критерием оценки ответов на вопросы Олимпиады является правильность ответов. Каждый правильный ответ 1 балл.

7.2. Критерии оценки творческого задания:

соответствие выполненного задания правилам дорожного движения;

оригинальность выполнения задания;  
отражение личной позиции автора;  
соответствие возрастным особенностям.

За каждый критерий не более 5 баллов.

7.3. Общее количество баллов не более 20 баллов.

### **8. Подведение итогов Олимпиады**

8.1. Победитель (1 место) и призёры (2 и 3 места) в каждой возрастной группе награждаются дипломами министерства образования Тульской области, призами и сувенирной продукцией.

8.2. Участники Олимпиады, занявшие 4–6 места, награждаются грамотами ГОУ ДО ТО «ЦДОД».

8.3. Все участники Олимпиады могут получить свидетельство участника.

### **9. Финансирование Олимпиады**

9.1. Расходы на проведение Олимпиады (приобретение призов, сувенирной продукции, дипломов, грамот) осуществляются за счет средств, предусмотренных на реализацию комплекса процессных мероприятий «Повышение безопасности дорожного движения в Тульской области» государственной программы Тульской области «Повышение общественной безопасности населения в Тульской области», утвержденной постановлением правительства Тульской области от 26 января 2018 г. № 35.

9.2. Расходы по доставке материалов Олимпиады несут направляющие организации.

### **10. Обработка персональных данных**

10.1. Министерство образования Тульской области поручает ГОУ ДО ТО «ЦДОД» обработку определенных категорий персональных данных субъектов персональных данных в рамках целей конкурса, с их письменного согласия. Вид обработки персональных данных: сбор, обработка, систематизация, уточнение (обновление, изменение), использование, передача (предоставление доступа); удаление; уничтожение.

10.2. Ответственность за сбор письменных согласий с субъектов персональных данных на обработку персональных данных, в том числе на их передачу министерству образования Тульской области возлагается на ГОУ ДО ТО «ЦДОД».

8.3. Министерство образования Тульской области, ГОУ ДО ТО «ЦДОД» обязаны:

10.3.1. Соблюдать принципы и правила обработки персональных данных, предусмотренные Федеральным законом от 27.07.2006 № 152-ФЗ «О персональных данных».

10.3.2. Соблюдать конфиденциальность и обеспечивать безопасность персональных данных, обрабатываемых в связи с исполнением настоящего договора.

10.4. Соблюдать требования к защите обрабатываемых персональных данных в соответствии со ст. 19 Федерального закона от 27.07.2006 № 152-ФЗ «О персональных данных», в частности:

- осуществлять определение угроз безопасности персональных данных;
- применять средства защиты информации, прошедшие в установленном порядке процедуру оценки соответствия;
- применять организационные и технические меры по обеспечению безопасности персональных данных;
- вести учет машинных носителей персональных данных;
- вести учет лиц, допущенных к обработке персональных данных в информационных системах, устанавливать правила доступа к персональным данным;
- осуществлять обнаружение фактов несанкционированного доступа к персональным данным и принятие соответствующих мер;
- осуществлять восстановление персональных данных, модифицированных или уничтоженных вследствие несанкционированного доступа к ним.

10.5. Стороны несут ответственность в соответствии с законодательством Российской Федерации за нарушение принципов и правил обработки персональных данных и за разглашение информации ограниченного доступа.

**Министр образования  
Тульской области**



**О.А. Осташко**

Приложение № 1 к Положению  
об олимпиаде по правилам дорожного  
движения среди учащихся начальных  
классов образовательных учреждений  
Тульской области

**Заявка**

Образовательное учреждение \_\_\_\_\_

(полное официальное наименование ОУ в соответствии с уставом)

E-mail (обязательно) \_\_\_\_\_

направляет для участия в олимпиаде по правилам дорожного движения среди учащихся начальных классов образовательных учреждений Тульской области:

№ п/п	Фамилия, имя участника	Класс	Фамилия, имя, отчество педагога

\_\_\_\_\_  
Руководитель образовательного учреждения

\_\_\_\_\_  
(подпись)

МП

*Уважаемые педагоги! Будьте внимательны, заполняя заявку.*

*Заявки на участие сдаются в Оргкомитет Конкурса вместе с работами участников; заверяются печатью учреждения и личной подписью руководителя учреждения. Все графы заявки должны быть заполнены шрифтом Times New Roman, кегель 12.*

\_\_\_\_\_

Приложение № 2 к Положению  
об олимпиаде по правилам дорожного  
движения среди учащихся начальных  
классов образовательных учреждений  
Тульской области

**СОГЛАСИЕ**  
**родителей (законных представителей) на обработку персональных данных**  
**обучающихся, участников региональных (областных) мероприятий для детей и**  
**молодежи Тульской области**

Я, \_\_\_\_\_, проживающий  
(фамилия, имя, отчество представителя обучающегося)

по адресу: \_\_\_\_\_, паспорт серии \_\_\_\_\_  
(адрес представителя обучающегося)

номер \_\_\_\_\_, выдан \_\_\_\_\_  
(указать орган, которым выдан паспорт)

\_\_\_\_\_ « \_\_\_\_ » \_\_\_\_\_ года  
(дата выдачи паспорта)

в соответствии с требованиями Федерального закона от 27.07.2006 г. № 152-ФЗ «О персональных данных», с целью участия в олимпиаде по правилам дорожного движения среди учащихся начальных классов образовательных учреждений Тульской области даю согласие следующему оператору персональных данных: ГОУ ДО ТО «ЦДОД», адрес регистрации 300041, г. Тула, ул. Путейская, д. 9, фактический адрес 300041, г. Тула, ул. Путейская, д. 9;

на обработку, персональных данных учащегося \_\_\_\_\_  
(фамилия, имя, отчество участника)

\_\_\_\_\_, проживающего по адресу

\_\_\_\_\_,  
(адрес,

\_\_\_\_\_ номер свидетельства о рождении,

\_\_\_\_\_ сведения о дате выдачи и выдавшем его органе)  
а именно: фамилию, имя, отчество, данные свидетельства о рождении, паспортные данные, наименование образовательного учреждения, в котором обучается ребенок, адрес места жительства, номер контактного телефона или сведения о других способах связи.

Перечень действий с персональными данными: сбор, запись, систематизация, накопление, хранение, уточнение (обновление, изменение), использование, удаление, уничтожение персональных данных, передача в министерство образования Тульской области, адрес регистрации: 300041, г. Тула, пр-т Ленина, д. 2; адрес фактический: 300012, г. Тула, ул. Оружейная, д. 5.

Общее описание используемых способов обработки персональных данных: смешанная обработка, с передачей по внутренней сети указанных операторов персональных данных, с передачей по сети Интернет.

Настоящее согласие действует до 30 декабря 2024г.

Согласие на обработку персональных данных может быть отозвано субъектом персональных данных в любой момент на основании письменного заявления, поданного в адрес министерства образования Тульской области.

\_\_\_\_\_ « \_\_\_\_ » \_\_\_\_\_ Г.  
(подпись) (дата, месяц и год заполнения)




Приложение № 3 к Положению  
об олимпиаде по правилам дорожного  
движения среди учащихся начальных  
классов образовательных учреждений  
Тульской области


**Вопросы и задания олимпиады  
по правилам дорожного движения среди учащихся начальных классов  
образовательных учреждений Тульской области**

**Вопросы для обучающихся 1 класса**


1. Определите, кто находится не на своей части дороги и закрасьте кружок с верной цифрой в бланке.




2. Определите, какой цифрой на картинке указан пассажир и закрасьте кружок с верной цифрой в бланке.



3. Найдите цифру, которой на картинке отмечен тот, для кого построен подземный переход и закрасьте кружок с верной цифрой в бланке.




4. Каким цветом должен быть белый человечек? Закрасьте кружок с верным ответом в бланке.



- 1) Жёлтый
- 2) Синий
- 3) Красный

5. Барсучок идет домой. Верно ли он проложил безопасный путь?  
Закрасьте кружок с верным ответом в бланке.




- 1) Да
- 2) Нет

6. Как называется этот знак? Закрасьте кружок с верным ответом в бланке.




- 1) Бегущие школьники
- 2) Дети
- 3) Осторожно дети


7. Какой цифрой отмечен персонаж, который соблюдает алгоритм перехода проезжей части? Закрасьте кружок с верным ответом в бланке.




8. Определи транспортное средство, которому знак запрещает ехать по дороге. Закрасьте кружок с верным ответом в бланке.




9. Какой детали не хватает на знаке «Пункт питания»? Закрасьте кружок с верным ответом в бланке.



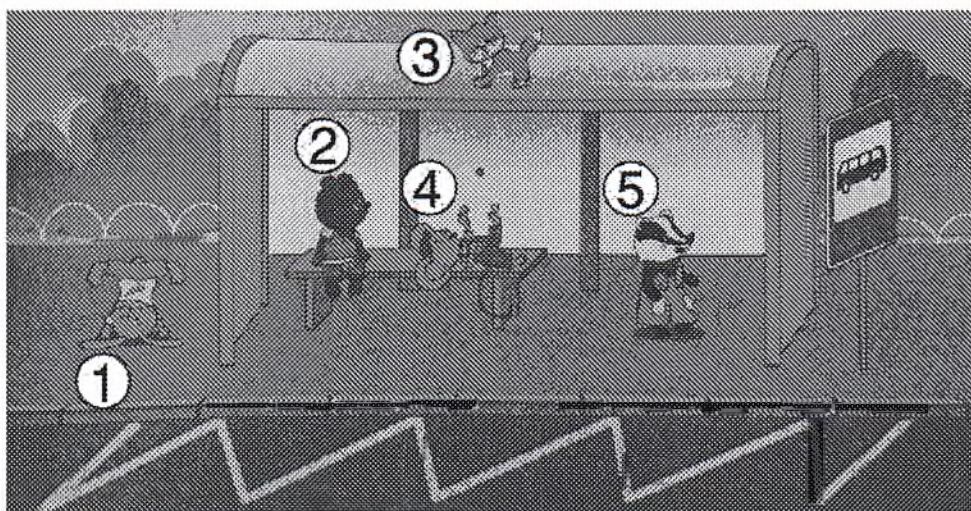
- 1) Ложки
  - 2) Тарелки
  - 3) Вилки
10. Какой из велосипедистов правильно пересекает проезжую часть? Закрасьте кружок с верным ответом в бланке.




11. Выберите номера пешеходов, которые движутся по дороге правильно. Закрасьте кружок с верным ответом в бланке.



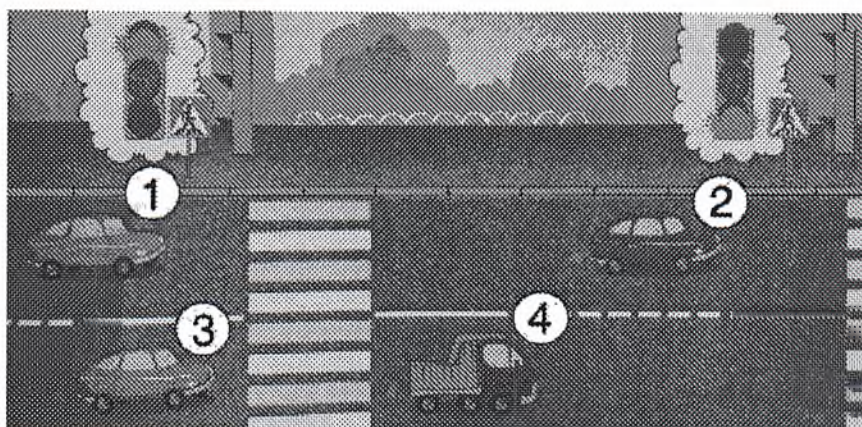
12. Определите, какие зверушки ведут себя на остановке правильно. Закрасьте кружок с верным ответом в бланке.



13. Какие зверушки нарушают правила дорожного движения? Закрасьте кружок с верным ответом в бланке.



14. Определите под какими номерами машины движутся по проезжей части. Закрасьте кружок с верным ответом в бланке.



15. Как называются элементы экипировки, которые находятся у школьников на ранцах и одежде. Выберите верный ответ и закрасьте кружок в бланке.



- 1) Светоотражающие элементы
- 2) Световозвращающие элементы
- 3) Светопогашающие элементы

**Творческое задание:**

Используя цветную бумагу, вырезки из газет и журналов, фотографии и наклейки сделайте коллаж «Самый лучший пассажир».



## БЛАНК ОТВЕТОВ

Олимпиада по ПДД для учащихся начальных классов  
1 класс

Ф.И.О. ученика \_\_\_\_\_

Название школы \_\_\_\_\_

1 вопрос

① ② ③

2 вопрос

① ② ③

3 вопрос

① ② ③

4 вопрос

① ② ③

5 вопрос

① ②

6 вопрос

① ② ③

7 вопрос

① ② ③ ④

8 вопрос

① ② ③ ④

9 вопрос

① ② ③

10 вопрос

① ②

11 вопрос

① ② ③ ④

12 вопрос

① ② ③ ④ ⑤

13 вопрос

① ② ③

14 вопрос

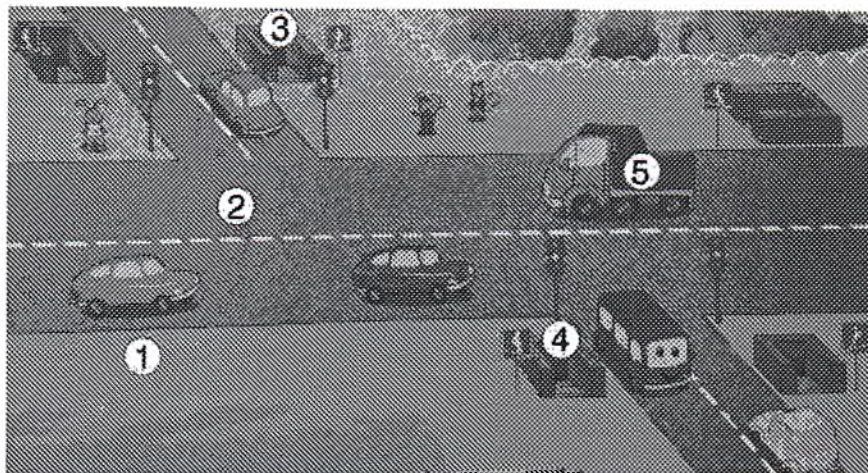
① ② ③ ④

15 вопрос

① ② ③

**Вопросы для обучающихся 2 класса**


16. Определите, под какими цифрами на картинке отмечены подземные переходы. Закрасьте кружок с верной цифрой в бланке.



17. Как называется светофор с двумя световыми сигналами? Закрасьте кружок с верной цифрой в бланке.

- 1) Транспортный светофор
- 2) Пешеходный светофор
- 3) Переходный светофор

18. Определите, водитель какого автомобиля видит пешехода. Закрасьте кружок с верной цифрой в бланке.

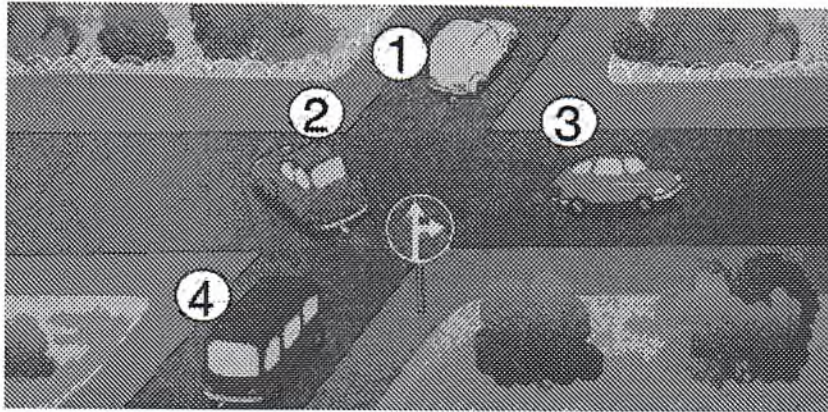


19. Для кого предназначен тротуар? Закрасьте кружок с верной цифрой в бланке.

- 1) Для автомобилей
- 2) Для мальчиков
- 3) Для пешеходов
- 4) Для животных

20. Определите, водитель какого автомобиля нарушает правила. Закрасьте кружок с верной цифрой в бланке.





21. Какое время года наиболее опасное для пешеходов и водителей из-за скользкой дороги? Закрасьте кружок с верной цифрой в бланке.

- 1) Зима
- 2) Лето
- 3) Осень

22. Выберите из списка знак, который необходимо разместить в белом треугольнике. Закрасьте кружок с верной цифрой в бланке.




- 1) Опасный поворот (правый)
- 2) Скользкая дорога
- 3) Искусственная неровность
- 4) Пешеходный переход

23. Как называется участник дорожного движения, который находится в транспортном средстве, но не управляет им? Закрасьте кружок с верной цифрой в бланке.

- 1) Тракторист
- 2) Машинист
- 3) Пассажир
- 4) Ямщик

24. Определите, какие пешеходы нарушают правила безопасного поведения на дороге. Закрасьте кружок с верной цифрой в бланке.



**25. Кому должны подчиняться водители и пешеходы, если сигналы регулировщика противоречат сигналам светофора? Закрасьте кружок с верной цифрой в бланке.**

- 1) Сигналам светофора
- 2) Сигналам регулировщика
- 3) Сигналам дорожной разметки
- 4) Сигналам новогодней гирлянды

**26. Какой стороны следует придерживаться при передвижении по тротуару? Закрасьте кружок с верной цифрой в бланке.**

- 1) Правой
- 2) Центральной
- 3)левой
- 4) Какой угодно

**27. Чем пользуется регулировщик, когда руководит движением транспорта и пешеходов на перекрёстке? Закрасьте кружок с верной цифрой в бланке.**


- 1) Знаком
- 2) Палочкой
- 3) Жезлом
- 4) Светофором

**28. Мостовая – это пешеходная дорожка? Закрасьте кружок с верной цифрой в бланке.**

- 1) Да

- 2) Нет
- 3) Не знаю

29. Определите, какие пассажиры нарушают правила дорожного движения. Закрасьте кружок с верной цифрой в бланке.



30. К какой группе участников дорожного движения относится роллер? Закрасьте кружок с верной цифрой в бланке.

- 1) Пешеходы
- 2) Водители
- 3) Пассажиры
- 4) Наблюдатели

**Творческое задание:**

Создайте транспорт будущего в технике оригами или модульного оригами и придумайте описание к своей работе.



## БЛАНК ОТВЕТОВ

Олимпиада по ПДД для учащихся начальных классов  
2 класс

Ф.И.О. ученика \_\_\_\_\_

Название школы \_\_\_\_\_

1 вопрос

① ② ③ ④ ⑤

2 вопрос

① ② ③

3 вопрос

① ② ③

4 вопрос

① ② ③ ④

5 вопрос

① ② ③ ④

6 вопрос

① ② ③

7 вопрос

① ② ③ ④

8 вопрос

① ② ③ ④

9 вопрос

① ② ③ ④ ⑤

10 вопрос

① ② ③ ④

11 вопрос

① ② ③ ④

12 вопрос

① ② ③ ④

13 вопрос

① ② ③

14 вопрос

① ② ③ ④ ⑤

15 вопрос


① ② ③ ④

**Вопросы для обучающихся 3 класса**

**1. Сколько фигурок людей изображено на знаке «Дети»? Закрасьте кружок с верной цифрой в бланке.**

- 1) Трое
- 2) Двое
- 3) Один
- 4) Пять

**2. Определите, какой дорожный знак должен стоять при выезде со двора? Закрасьте кружок с верной цифрой в бланке.**



- 1) Конец жилой зоны
- 2) Дорожная зона
- 3) Завершение жилой зоны

**3. Вася И. и Коля П. живут в посёлке N. Тротуары вдоль проезжей части отсутствуют, поэтому мальчики ходят в школу по обочине дороги. Определите, верно ли ребята выстраивают свой безопасный маршрут до школы. Закрасьте кружок с верной цифрой в бланке.**



- 1) Не верно
- 2) Верно
- 3) Сомневаюсь


4. Какие лица отнесены «Правилами дорожного движения» к участникам дорожного движения? Закрасьте кружок с верной цифрой в бланке.

- 1) Пешеходы, водители, пассажиры, машинисты и летчики
- 2) Животные, дети, взрослые и автомобили
- 3) Пешеходы, пассажиры и водители

5. Определите, какой группы знаков не существует. Закрасьте кружок с верной цифрой в бланке.

- 1) Предупредительные знаки
- 2) Знаки сервиса
- 3) Запрещающие знаки
- 4) Информационные знаки

6. Пешеход переходит проезжую часть дороги на зеленый сигнал пешеходного светофора. Определите, чем для него опасен стоящий автобус? Закрасьте кружок с верной цифрой в бланке.



- 1) Автобус ограничивает пешеходу область видимости, тем самым создаёт угрозу его жизни.
- 2) Автобус может внезапно тронуться, ведь он может не делать остановку на зелёный сигнал светофора.
- 3) Автобус опасен сам по себе. Он может сломаться или взорваться.

7. Что такое тормозной путь автомобиля? Закрасьте кружок с верной цифрой в бланке.

1) Это расстояние, которое автомобиль преодолевает от момента включения двигателя до момента полной остановки.

2) Это расстояние, которое автомобиль преодолевает от момента полного нажатия на тормоза до момента полной остановки.

3) Это расстояние, которое автомобиль преодолевает от момента остановки до момента нажатия на тормоза.

**8. Какой сигнал обозначают разведённые руки регулировщика (восприятие со стороны груди и спины)? Закрасьте кружок с верной цифрой в бланке.**

1) Движение пешеходов и транспортных средств запрещено.

2) Движение транспортных средств запрещено, а движение пешеходов разрешено.

3) Движение пешеходов запрещено, а движение транспортных средств разрешено.

4) Движение пешеходов и транспортных средств разрешено.

**9. Определите, какой велосипедист выполняет правильную перевозку пассажира. Закрасьте кружок с верной цифрой в бланке.**



**10. Определите, что из нижеперечисленного относится к техническим средствам регулирования движения. Закрасьте кружок с верной цифрой в бланке.**

1) Электрифицированные жезлы, малогабаритные полевые светофоры, переносные электромегафоны, громкоговорящие установки, звуковые сирены, сборно-разборные шлагбаумы, дорожные знаки и указатели, специально оборудованные машины и мотоциклы

2) Магнитофоны, напольные знаки, устройства связи, мобильные установки, антенны

3) Дорожные сирены, сборно-разборные мегафоны, специально оборудованные жезлы, машинные знаки и указатели, малогабаритные полевые машины

**11. Определите, какая часть дороги загадана в ребусе. Закрасьте кружок с верной цифрой в бланке.**



- 1) Тротуар
- 2) Обочина
- 3) Перекрёсток

**12. К какой группе знаков относится знак «Въезд запрещён»? Закрасьте кружок с верной цифрой в бланке.**

- 1) Запретные знаки
- 2) Запрещающие знаки
- 3) Знаки особых предписаний
- 4) Знаки приоритета


**13. Определите, сколько полос для движения имеет данная дорога. Закрасьте кружок с верной цифрой в бланке.**



- 1) Четыре
- 2) Две
- 3) Шесть



14. Определите, на каком рисунке показана главная дорога.  
Закрасьте кружок с верной цифрой бланке.



- 1) Только на верхнем левом рисунке
- 2) На верхнем левом и нижнем рисунках
- 3) На всех рисунках

15. Какие транспортные средства относятся к маршрутным транспортным средствам? Закрасьте кружок с верной цифрой бланке.

- 1) Автобусы, троллейбусы, трамваи, используемые при осуществлении регулярных перевозок пассажиров и багажа, движущиеся по установленному маршруту с обозначенными местами установок.
- 2) Автобусы, поезда и корабли, которые осуществляют перевоз пассажиров и багажа.
- 3) Любые транспортные средства, которые занимаются перевозками грузов.

**Творческое задание**

С помощью различных техник создайте буклет-пособие размером А6 на тему «Пешеходы, пассажиры и водители – дружная дорожная семья!»



## БЛАНК ОТВЕТОВ

Олимпиада по ПДД для учащихся начальных классов  
3 класс

Ф.И.О. ученика \_\_\_\_\_

Название школы \_\_\_\_\_

1 вопрос

① ② ③ ④

2 вопрос

① ② ③

3 вопрос

① ② ③

4 вопрос

① ② ③

5 вопрос

① ② ③ ④

6 вопрос

① ② ③

7 вопрос

① ② ③

8 вопрос

① ② ③ ④

9 вопрос

① ② ③

10 вопрос

① ② ③

11 вопрос

① ② ③

12 вопрос

① ② ③ ④

13 вопрос

① ② ③

14 вопрос

① ② ③

15 вопрос

① ② ③

**Вопросы для обучающихся 4 класса**

1. Определите, сколько полос для движения имеет проезжая часть данной дороги. Закрасьте кружок с верной цифрой ответа в бланке.



- 1) Одну
- 2) Три
- 3) Две
- 4) Четыре

2. Определите, под какой цифрой находится точное определение слову «обочина». Закрасьте кружок с верной цифрой ответа в бланке.

1) элемент дороги, примыкающий непосредственно к пешеходной части на одном уровне с ней, отличающийся типом покрытия или выделенный с помощью бордюра, используемый для движения, остановки и лежанки в соответствии с правилами

2) элемент дороги, огибающий непосредственно проезжую часть на одном уровне с ней, выделенный с помощью разметки, используемый для бега, прыжков и стоянки в соответствии с правилами

3) элемент дороги, примыкающий непосредственно к проезжей части на одном уровне с ней, отличающийся типом покрытия или выделенный с помощью разметки, используемый для движения, остановки и стоянки в соответствии с правилами.

**3. Определите, сколько проезжих частей имеет данная дорога. Закрасьте кружок с верной цифрой ответа в бланке.**



- 1) Одну
- 2) Две
- 3) Четыре


**4. Являются ли тротуары и обочины частью дороги? Закрасьте кружок с верной цифрой ответа в бланке.**

- 1) Не являются
- 2) Являются только обочины
- 3) Являются

**5. Разрешается ли водителю пользоваться телефоном во время движения? Закрасьте кружок с верной цифрой ответа в бланке.**

- 1) Разрешается
- 2) Разрешается только при использовании технического устройства, позволяющего вести переговоры без использования рук.
- 3) Разрешается при движении на пароме.
- 4) Запрещается.

6. **Определите, сколько перекрёстков изображено на рисунке. Закрасьте кружок с верной цифрой ответа в бланке.**



- 1) Один  
2) Два  
3) Четыре
7. **Кто должен быть пристёгнут при движении на легковом автомобиле, оборудованном ремнями безопасности? Закрасьте кружок с верной цифрой ответа в бланке.**
- 1) Только водитель  
2) Все лица, находящиеся в автомобиле  
3) Водитель и пассажир на переднем сидении
8. **Вне населенного пункта при отсутствии тротуаров, пешеходных дорожек, велопешеходных дорожек или обочин, а также в случае невозможности двигаться по ним пешеходы могут идти по краю проезжей части... . Закрасьте кружок с верной цифрой ответа в бланке.**
- 1) ... по ходу движения транспортных средств.  
2) ... по любой стороне дороги.  
3) ... по разделительной полосе дороги.  
4) ... навстречу движению транспортных средств.
9. **Что означает мигание зелёного сигнала светофора?**
- 1) Разрешает движение и информирует о том, что вскоре будет включен запрещающий сигнал.  
2) Запрещает дальнейшее движение  
3) Предупреждает о неисправности светофора.

**10. Пешеходы должны двигаться по тротуарам придерживаясь ... Закрасьте кружок с верной цифрой ответа в бланке.**



- 1) Правой стороны
- 2)левой стороны
- 3) Какой угодно стороны

**11. Движение организованных групп людей по дороге разрешается только ... Закрасьте кружок с верной цифрой ответа в бланке.**

- 1) ... по правой стороне проезжей части дороги по ходу движения транспортных средств колонной более шести человек.
- 2) ... по левой стороне проезжей части дороги против движения транспортных средств колонной не более чем по три человека в ряд.
- 3) ... по правой стороне проезжей части дороги по ходу движения транспортных средств колонной не более чем по четыре человека в ряд.

**12. Пользуется ли преимуществом пешеход на перекрёстке где светофор переключился в режим мигающего жёлтого? Закрасьте кружок с верной цифрой ответа в бланке.**

- 1) Всегда пользуется
- 2) Только по выходным
- 3) Никогда не пользуется
- 4) Только на ледовой переправе

13. Являются ли дорожные рабочие, работающие на дороге, участниками дорожного движения? Закрасьте кружок с верной цифрой ответа в бланке.

- 1) Да
- 2) Нет
- 3) Летом – да, зимой – нет.

14. Когда людям, ожидающим трамвай, можно выходить на проезжую часть для посадки в транспортное средство? Закрасьте кружок с верной цифрой ответа в бланке.

- 1) Когда трамвай подъезжает к остановке.
- 2) После открытия дверей трамвая.
- 3) После остановки трамвая.

15. Как правильно обходить автобус? Закрасьте кружок с верной цифрой ответа в бланке.



- 1) Нужно подождать, пока транспорт отъедет от остановки
- 2) Обойти сзади
- 3) Обойти спереди

**Творческое задание**

**Снять видео-монолог на тему «Что я думаю о нарушениях правил дорожного движения».**

**Требования к видеоролику:**

- 1) Окончательный вариант смонтированного видеоролика сохранять в форматах AVI, MOV, MPEG, MP4.
- 2) Минимальное разрешение видеоролика – 480x360 для 4:3, 480x272 для 16:9, не ниже 240 px (пикселей). Ориентация – горизонтальная.
- 3) Продолжительность записи видеоролика не более 2 минут.
- 4) Участие автора в сюжете видеоролика обязательно.
- 5) Использование специальных программ и инструментов при съёмке и монтаже видеоролика самостоятельно решается участником Олимпиады.
- 6) На конкурс не принимаются ролики рекламного характера, оскорбляющие достоинство и чувства других людей, не раскрывающие тему задания.
- 7) Работа сохраняется на облачном хранилище и высылается на почту [avtograd71@tularegion.org](mailto:avtograd71@tularegion.org) вместе с заявкой на конкурс.





## БЛАНК ОТВЕТОВ

Олимпиада по ПДД для учащихся начальных классов  
4 класс

Ф.И.О. ученика \_\_\_\_\_

Название школы \_\_\_\_\_

1 вопрос

① ② ③ ④

2 вопрос

① ② ③

3 вопрос

① ② ③

4 вопрос

① ② ③

5 вопрос

① ② ③ ④

6 вопрос

① ② ③

7 вопрос

① ② ③

8 вопрос

① ② ③ ④

9 вопрос

① ② ③

10 вопрос

① ② ③

11 вопрос

① ② ③

12 вопрос

① ② ③ ④

13 вопрос

① ② ③

14 вопрос

① ② ③

15 вопрос

① ② ③