

МИНИСТЕРСТВО ОБРАЗОВАНИЯ ТУЛЬСКОЙ ОБЛАСТИ

П Р И К А З

Л.Од. 20262.

№ *257*

О проведении олимпиады по правилам дорожного движения среди учащихся начальных классов образовательных учреждений Тульской области

В соответствии с Календарем областных массовых мероприятий для детей и молодежи Тульской области на 2025 год, утвержденного приказом министерства образования Тульской области от 13.12.2024 № 1866, на основании Положения о министерстве образования Тульской области, утвержденного постановлением Правительства Тульской области от 29.01.2013 № 16, п р и к а з ы в а ю :

1. Провести с 17 февраля по 18 апреля 2025 года олимпиаду по правилам дорожного движения среди учащихся начальных классов образовательных учреждений Тульской области.

2. Утвердить Положение об олимпиаде по правилам дорожного движения среди учащихся начальных классов образовательных учреждений Тульской области (Приложение № 1).

3. Утвердить смету расходов на проведение олимпиады по правилам дорожного движения среди учащихся начальных классов образовательных учреждений Тульской области (Приложение № 2).

4. Организацию и проведение олимпиады по правилам дорожного движения среди учащихся начальных классов образовательных учреждений Тульской области поручить государственному образовательному учреждению дополнительного образования Тульской области «Центр дополнительного образования детей» (Грошев Ю.В.).

5. Заместителю министра - директору департамента финансирования, бухгалтерского учета, отчетности и контроля министерства образования Тульской области Кипровской Е.Ю. осуществить финансирование расходов на проведение олимпиады по правилам дорожного движения среди учащихся начальных классов образовательных учреждений Тульской области за счет средств, предусмотренных на реализацию комплекса процессных мероприятий «Повышение безопасности дорожного движения в Тульской области» государственной программы Тульской области «Повышение общественной безопасности населения в Тульской области», утвержденной постановлением правительства Тульской области от 26 января 2018 г. № 35.

6. Руководителям органов местного самоуправления, осуществляющих управление в сфере образования, рекомендовать организовать участие заинтересованных участников образовательного процесса в олимпиаде по

правилам дорожного движения среди учащихся начальных классов образовательных учреждений Тульской области.

7. Руководителям государственных образовательных учреждений Тульской области, подведомственных министерству образования Тульской области, обеспечить участие заинтересованных участников образовательного процесса в олимпиаде по правилам дорожного движения среди учащихся начальных классов образовательных учреждений Тульской области.

8. Контроль исполнения настоящего приказа возложить на директора департамента дошкольного, общего, дополнительного образования и воспитания министерства образования Тульской области Морозова В.Б.

**Министр образования
Тульской области**



О.А. Осташко

ПОЛОЖЕНИЕ
об олимпиаде по правилам дорожного движения
среди учащихся начальных классов образовательных учреждений
Тульской области

1. Общие положения

1.1. Олимпиада по правилам дорожного движения среди учащихся начальных классов образовательных учреждений Тульской области (далее – Олимпиада) проводится с 17 февраля по 18 апреля 2025 года министерством образования Тульской области, государственным образовательным учреждением дополнительного образования Тульской области «Центр дополнительного образования детей» (далее – ГОУ ДО ТО «ЦДОД»), совместно с Управлением Государственной инспекции безопасности дорожного движения УМВД России по Тульской области (по согласованию) в рамках реализации пункта 2.4. перечня мероприятий по реализации Подпрограммы «Повышение безопасности дорожного движения в Тульской области» государственной программы Тульской области «Повышение общественной безопасности населения в Тульской области», утвержденной постановлением правительства Тульской области от 26 января 2018 г. № 35.

2. Цели и задачи Олимпиады

2.1. Целями и задачами Олимпиады являются:
повышение гражданского сознания обучающихся в вопросах предупреждения детского дорожно-транспортного травматизма;
активизация познавательного интереса к изучению правил дорожного движения;
создание условий для проявления творческой активности обучающихся при изучении вопросов безопасности дорожного движения;
формирование у детей культуры законопослушного поведения на дорогах.

3. Участники Олимпиады

3.1. К участию в Олимпиаде приглашаются обучающиеся 1-4 классов общеобразовательных учреждений и учреждений дополнительного образования Тульской области.

3.2. Олимпиада проводится по четырём возрастным группам:

- 1 группа – обучающиеся 1 классов;
- 2 группа – обучающиеся 2 классов;
- 3 группа – обучающиеся 3 классов;
- 4 группа – обучающиеся 4 классов.

4. Руководство Олимпиадой

4.1. Общее руководство подготовкой и проведением Олимпиады осуществляет организационный комитет (далее – Оргкомитет), формируемый ГОУ ДО ТО «ЦДОД».

4.2. Оргкомитет Олимпиады утверждает состав жюри, систему экспертных оценок, организует награждение победителей и призёров, информирует об итогах Олимпиады.

5. Сроки и порядок и проведения Олимпиады

5.1. Олимпиада проводится дистанционно с 17 февраля по 18 апреля 2025 года. Работы выполняются индивидуально.

5.2. Муниципальные и государственные образовательные учреждения представляют для участия в Олимпиаде:

заявку (Приложение № 1 к Положению);

конкурсные материалы (**не более 3-х работ в каждой возрастной группе**) в адрес Оргкомитета Олимпиады: бланк ответов и творческое задание; согласие на обработку персональных данных (Приложение № 2 к Положению).

5.3. Конкурсные материалы представляются в срок до **31 марта 2025 года** по адресу электронной почты: cdod.konkurs@tularegion.org с обязательной пометкой «Олимпиада по ПДД».

Контактный телефон: 8(4872)31-63-84 – Ефимова Виктория Викторовна.

6. Условия проведения Олимпиады и требование к оформлению заданий

6.1. Олимпиада состоит из вопросов по тематике ПДД для каждой возрастной группы (Приложение № 3 к Положению) и творческого задания.

6.2. При решении олимпиады участнику необходимо выбрать правильный ответ и отметить. Если в задании требуется выполнить другие действия, то надо следовать их указаниям. Задания Олимпиады лучше брать на сайте ГОУ ДО ТО «ЦДОД» (в разделе Конкурсы) или в официальной группе ВКонтакте.

Олимпиадный материал высылается в электронном виде с обязательной пометкой Олимпиада ПДД. Каждая работа должна быть подписана, например: Иванов И., 1а кл., ЦО 10, г. Тула. Остальные реквизиты указываются в заявке (наименование и адрес образовательного учреждения, класс; ФИО педагога-консультанта (полностью), контактный телефон, электронный адрес).

7. Критерии оценки конкурсных работ

7.1. Критерием оценки ответов на вопросы Олимпиады является правильность ответов. Каждый правильный ответ 1 балл.

7.2. Критерии оценки творческого задания:

соответствие выполненного задания правилам дорожного движения;

оригинальность выполнения задания;

отражение личной позиции автора;

соответствие возрастным особенностям.

За каждый критерий не более 5 баллов.

7.3. Общее количество баллов не более 52 баллов.

8. Подведение итогов Олимпиады

8.1. Победитель (1 место) и призёры (2 и 3 места) в каждой возрастной группе награждаются дипломами министерства образования Тульской области, призами и сувенирной продукцией.

8.2. Участники Олимпиады, занявшие 4–6 места, награждаются грамотами ГОУ ДО ТО «ЦДОД».

8.3. Все участники Олимпиады могут получить свидетельство участника.

9. Финансирование Олимпиады

9.1. Расходы на проведение Олимпиады осуществляются за счет средств, предусмотренных в бюджете области на реализацию комплекса процессных мероприятий «Повышение безопасности дорожного движения в Тульской области» государственной программы Тульской области «Повышение общественной безопасности населения в Тульской области», утвержденной постановлением правительства Тульской области от 26 января 2018 г. № 35.

9.2. Расходы по доставке материалов Олимпиады несут направляющие организации.

10. Обработка персональных данных

10.1. Министерство образования Тульской области поручает ГОУ ДО ТО «ЦДОД» обработку определенных категорий персональных данных субъектов персональных данных в рамках целей конкурса, с их письменного согласия. Вид обработки персональных данных: сбор, обработка, систематизация, уточнение (обновление, изменение), использование, передача (предоставление доступа); удаление; уничтожение.

10.2. Ответственность за сбор письменных согласий с субъектов персональных данных на обработку персональных данных, в том числе на их передачу министерству образования Тульской области возлагается на ГОУ ДО ТО «ЦДОД».

10.3. Министерство образования Тульской области, ГОУ ДО ТО «ЦДОД» обязаны:

10.3.1. Соблюдать принципы и правила обработки персональных данных, предусмотренные Федеральным законом от 27.07.2006 № 152-ФЗ «О персональных данных».

10.3.2. Соблюдать конфиденциальность и обеспечивать безопасность персональных данных, обрабатываемых в связи с исполнением настоящего договора.

10.4. Соблюдать требования к защите обрабатываемых персональных данных в соответствии со ст. 19 Федерального закона от 27.07.2006 № 152-ФЗ «О персональных данных», в частности:

- осуществлять определение угроз безопасности персональных данных;

- применять средства защиты информации, прошедшие в установленном порядке процедуру оценки соответствия;
- применять организационные и технические меры по обеспечению безопасности персональных данных;
- вести учет машинных носителей персональных данных;
- вести учет лиц, допущенных к обработке персональных данных в информационных системах, устанавливать правила доступа к персональным данным;
- осуществлять обнаружение фактов несанкционированного доступа к персональным данным и принятие соответствующих мер;
- осуществлять восстановление персональных данных, модифицированных или уничтоженных вследствие несанкционированного доступа к ним.

10.5. Стороны несут ответственность в соответствии с законодательством Российской Федерации за нарушение принципов и правил обработки персональных данных и за разглашение информации ограниченного доступа.

Приложение № 1 к Положению
об олимпиаде по правилам дорожного
движения среди учащихся начальных
классов образовательных учреждений
Тульской области

Заявка

Образовательное учреждение _____

(полное официальное наименование ОУ в соответствии с уставом)

Е-mail (обязательно) _____

направляет для участия в олимпиаде по правилам дорожного движения среди учащихся начальных классов образовательных учреждений Тульской области:

№ п/п	Фамилия, имя участника	Класс	Фамилия, имя, отчество педагога

Руководитель образовательного учреждения

(подпись)

МП

Уважаемые педагоги! Будьте внимательны, заполняя заявку.

Заявки на участие сдаются в Оргкомитет Конкурса вместе с работами участников; заверяются печатью учреждения и личной подписью руководителя учреждения. Все графы заявки должны быть заполнены шрифтом Times New Roman, кегель 12.

Приложение № 2 к Положению
об олимпиаде по правилам дорожного
движения среди учащихся начальных
классов образовательных учреждений
Тульской области

СОГЛАСИЕ
родителей (законных представителей) на обработку персональных данных
обучающихся, участников региональных (областных) мероприятий для детей и
молодежи Тульской области

Я, _____, проживающий
(фамилия, имя, отчество представителя обучающегося)

по адресу: _____, паспорт серии _____
(адрес представителя обучающегося)

номер _____, выдан _____
(указать орган, которым выдан паспорт)

_____ « ____ » _____ года
(дата выдачи паспорта)

в соответствии с требованиями Федерального закона от 27.07.2006 г. № 152-ФЗ «О персональных данных», с целью участия в олимпиаде по правилам дорожного движения среди учащихся начальных классов образовательных учреждений Тульской области даю согласие следующему оператору персональных данных: ГОУ ДО ТО «ЦДОД», адрес регистрации 300041, г. Тула, ул. Путейская, д. 9, фактический адрес 300041, г. Тула, ул. Путейская, д. 9; на обработку персональных данных учащегося

_____ (фамилия, имя, отчество участника)

_____, проживающего по адресу

_____,
(адрес,

_____ номер свидетельства о рождении,

_____ сведения о дате выдачи и выдавшем его органе)

а именно: фамилию, имя, отчество, данные свидетельства о рождении, паспортные данные, наименование образовательного учреждения, в котором обучается ребенок, адрес места жительства, номер контактного телефона или сведения о других способах связи.

Перечень действий с персональными данными: сбор, запись, систематизация, накопление, хранение, уточнение (обновление, изменение), использование, удаление, уничтожение персональных данных, передача в **министерство образования Тульской области**, адрес регистрации: 300041, г. Тула, пр-т Ленина, д. 2; адрес фактический: 300012, г. Тула, ул. Оружейная, д. 5.

Общее описание используемых способов обработки персональных данных: смешанная обработка, с передачей по внутренней сети указанных операторов персональных данных, с передачей по сети Интернет.

Настоящее согласие действует до 30 декабря 2025г.

Согласие на обработку персональных данных может быть отозвано субъектом персональных данных в любой момент на основании письменного заявления, поданного в адрес министерства образования Тульской области.

_____ « ____ » _____ Г.
(подпись) (дата, месяц и год заполнения)

Задания для обучающихся 1 классов

Дорогой участник! При решении олимпиады тебе необходимо выбрать правильный ответ и отметить. Если в задании требуется выполнить другие действия, то следуй их указаниям. Желаем тебе приятного участия и победы!

Задание 1. Соблюдать правила дорожного движения нужно?

- а) в темное время суток;
- б) всегда;
- в) когда вблизи находится регулировщик или инспектор ГИБДД;
- г) когда на это есть настроение.

Задание 2. Как называется место пересечения двух дорог?

- а) переезд;
- б) полоса препятствий;
- в) перекрёсток;
- г) тоннель;

Задание 3. Обведите в круг дорожный знак, который обозначает место остановки трамвая.



Задание 4. Сколько сигналов имеет пешеходный светофор?

- а) один;
- б) два;
- в) три;

Задание 5. Велосипедист – это

- а) пешеход;
- б) пассажир;
- в) машинист;
- г) водитель.

Задание 6. В какие игры можно играть на проезжей части?


- а) на проезжей части нельзя играть;
- б) спортивные;
- в) спокойные;
- г) интерактивные.

Задание 7. Обведите в круг то транспортное средство, которое является общественным.




Задание 8. Миша и Петя катались на велосипедах во дворе своего дома, но потом решили поехать кататься в парк, который находится через дорогу. Для этого ребятам нужно было пересечь проезжую часть дороги. Определи, кто из мальчиков нарушает правила дорожного движения, если Миша в зеленом велошлеме, а Петя - в оранжевом.

- а) Миша и Петя соблюдают правила, так как пересекают проезжую часть дороги по пешеходному переходу;
- б) Миша (в зеленом велошлеме);
- в) Петя (в оранжевом велошлеме).

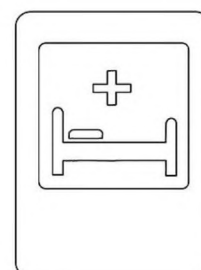


Задание 9. Разгадайте ребус.



Ответ _____


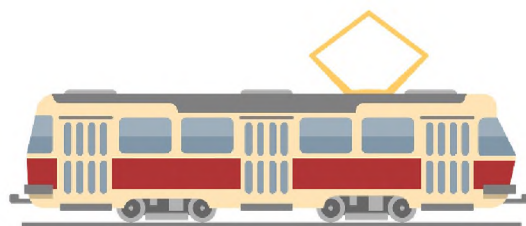
Задание 10. Раскрасьте все знаки и отметь кругом те из них, которые относятся к пешеходам.



Задание 11. Определи какое утверждение верно.

- а) среди средств пассивной защиты велосипедиста самыми значимыми являются наколенники и перчатки;
- б) среди средств пассивной защиты велосипедиста самым значимым является велошлем;
- в) среди средств пассивной защиты велосипедиста самыми значимыми являются световозвращатели.

Задание 12. Обведите в круг те машины, которым разрешён проезд на красный сигнал светофора и навстречу движущемуся транспорту.



Задание 13. Творческое задание.

Придумай и нарисуй свой дорожный знак. Нужно нарисовать 1 новый знак (на выбор: запрещающий, предупреждающий, предписывающий). Формат А4. (Приложить фото).

Задание 14. Творческое задание

Очень важно в темное время суток пешеходам носить световозвращающие элементы. Современные технологии помогают разрабатывать такие материалы, которые хорошо видны в темноте с большого расстояния. Свет от фар, попадая на такой материал, отражается и возвращается к водителю.

Вам необходимо придумать и смастерить фликер (световозвращающий элемент) и сфотографироваться вместе с ним с использованием фотовспышки. (Приложить фото).

Задания для обучающихся 2 классов

Дорогой участник! При решении олимпиады тебе необходимо выбрать правильный ответ (ответы) и отметить. Если в задании требуется выполнить другие действия, то следуй их указаниям. Желаем тебе приятного участия и победы!

Задание 1. Кто должен выполнять требования дорожных знаков?

- а) только водители;
- б) только взрослые;
- в) только дети;
- г) все участники движения.

Задание 2. Соотнесите изображение и название знака.

А. 	1. «Жилая зона»
Б. 	2. «Велосипедная дорожка»
В. 	3. «Главная дорога»
Г. 	4. «Надземный переход»
Д. 	5. «Движение пешеходов запрещено»

А.	
Б.	
В.	
Г.	
Д.	

Задание 3. Опасно ли переходить дорогу наискосок?

- а) не опасно, т.к. водитель затормозит;
- б) не опасно, т.к. уверен, что успею перейти;
- в) опасно, т.к. путь становится длиннее и ухудшается обзор.

Задание 4. Чьим сигналам должен подчиняться пешеход, если на переходе есть работающий светофор и регулировщик регулирует движение?

- а) регулировщика;
- б) светофора;
- в) по желанию.

Задание 5. Дорисуйте все элементы защитной экипировки велосипедиста и элементы безопасности велосипеда. Подпиши их названия.



Задание 6. На улице идёт дождь с сильным ветром. В чём опасность такой погоды для пешехода?

- а) в дождь ухудшается видимость. Водителю становится сложнее заметить пешехода;
- б) в дождь пешеходы прячутся под зонтиками, надевают капюшоны. Зонт и капюшон ограничивают обзор, есть риск, что пешеход вовремя не заметит опасность;
- в) оба утверждения верны.

Задание 7. Вспомни правила поведения на остановке и в общественном транспорте. Зачеркни лишние выделенные слова, чтобы утверждения стали верными.

- Ожидать транспорт **(нужно) (нельзя)** на специально обозначенной площадке.
- Во время посадки нужно **(пропустить) (опередить)** выходящих из транспорта людей.
- Если над дверьми есть надписи «Вход» «Выход», **(не старайтесь) (старайтесь)** соблюдать установленный порядок.
- Находиться во время движения на ступеньках **(опасно) (интересно)**.
- Войдя в салон, по возможности **(остановитесь) (не останавливайтесь)** у дверей.
- **(Уступайте) (Не уступайте)** место пожилым людям, инвалидам и маленьким детям.
- Во время движения транспорта **(нельзя) (нужно)** отвлекать водителя.
- Воспитанный человек **(войдет) (не войдет)** в транспорт с вещами, которые могут запачкать сиденья или одежду других пассажиров.
- Если в салоне много пассажиров, следует обратиться с вопросом к пассажиру, стоящему впереди: **(«Сходишь?»), («Извините, вы будете сейчас выходить?»), («Подвинетесь?»)**
- К выходу **(нужно) (нельзя)** готовиться заранее.

Задание 8. Разгадайте ребус.




Ответ _____

Задание 9. Что должен сделать пешеход, если он видит, что к переходу приближается «Скорая помощь» со включенным звуковым спецсигналом и проблесковым маячком синего цвета?

- а) переходить дорогу, как ни в чём ни бывало. Пешеход на «зебре» имеет преимущество;
- б) пропустить «Скорую» (воздержаться от перехода).
- в) как можно быстрее перейти проезжую часть.

Задание 10. Обведите кругом тех персонажей, которые нарушают правила дорожного движения.



Задание 11. Обведите в круг дорожный знак, который предупреждает о приближении к пешеходному переходу.



Задание 12. Пешеходам разрешено движение по проезжей части дороги в зоне действия дорожного знака «Жилая зона», если ...

- а) пешеход не создаёт не обоснованных помех транспортным средствам;
- б) на улице светло;
- в) всегда запрещается.



Задание 13. Творческое задание.

Придумай и нарисуй свой дорожный знак. Нужно нарисовать 1 новый знак (на выбор: запрещающий, предупреждающий, предписывающий).
Формат А4. (Приложить фото).

Задание 14. Творческое задание.

Очень важно в темное время суток пешеходам носить световозвращающие элементы. Современные технологии помогают разрабатывать такие материалы, которые хорошо видны в темноте с большого расстояния. Свет от фар, попадая на такой материал, отражается и возвращается к водителю.

Вам необходимо придумать и смастерить фликер (световозвращающий элемент) и сфотографироваться вместе с ним с использованием фотовспышки. (Приложить фото).

Задания для обучающихся 3 классов

Дорогой участник! При решении олимпиады тебе необходимо выбрать правильный ответ и отметить. Если в задании требуется выполнить другие действия, то следуй их указаниям. Желаем тебе приятного участия и победы!

Задание 1. Какие лица отнесены «Правилами дорожного движения» к участникам дорожного движения?

- а) пешеходы, водители, пассажиры, машинисты и летчики;
- б) животные, дети, взрослые и автомобили;
- в) пешеходы, пассажиры и водители;
- г) водители, машинисты, пассажиры, велосипедисты.

Задание 2. Как велосипедист должен сообщить участникам дорожного движения об остановке?

- а) вытянуть руку вправо;
- б) вытянуть руку влево;
- в) поднять руку вверх;
- г) вытянуть руки в стороны.

Задание 3. Обведите дорожный знак, на котором допущена ошибка.



Задание 4. К какой группе участников дорожного движения относится роллер?

- а) пешеходы;
- б) водители;
- в) пассажиры;
- г) наблюдатели.

Задание 5. Где могут двигаться пешеходы в жилой зоне?

- а) только по тротуарам;
- б) по тротуарам и по краю проезжей части;
- в) по тротуарам и по всей длине проезжей части;
- г) движение для пешеходов запрещено.



Задание 6. Семья Васи вышла на пешую прогулку за город. Определите, как необходимо семье передвигаться вдоль дороги.



- а) Пешеходы должны бежать рядом с движущимся транспортом;
- б) Пешеходы должны идти в один ряд по краю проезжей части или по обочине дороги навстречу движущемуся транспорту;
- в) Пешеходы должны идти по разделительной полосе дороги;
- г) Пешеходы должны идти в один ряд по краю проезжей части или по обочине дороги в том же направлении, что и движущийся транспорт;


Задание 7. Преимущество перед другими участниками движения имеет водитель автомобиля:

- а) только с включенным проблесковым маячком синего или бело-лунного цвета;
- б) только с включенным проблесковым маячком оранжевого или желтого цвета;
- в) только с включенными проблесковым маячком синего (синего и красного) цвета и специальным звуковым сигналом;
- г) любого из перечисленных.

Задание 8. Какой сигнал обозначают разведённые руки регулировщика (восприятие со стороны груди и спины)?

- а) движение пешеходов и транспортных средств разрешено.
- б) движение транспортных средств запрещено, а движение пешеходов разрешено.
- в) движение пешеходов запрещено, а движение транспортных средств разрешено.
- г) движение пешеходов и транспортных средств запрещено.

Задание 9. Решите кроссворд. Из выделенных букв соберите слово.



Ответ _____

1. Световозвращающее устройство для обеспечения безопасности пешеходов в тёмное время суток.
2. Сотрудник ГИБДД, который контролирует и регулирует движение транспортных средств и пешеходов на перекрёстках и других участках дороги.
3. Техническое средство безопасности дорожного движения, стандартизированный графический рисунок, устанавливаемый у дороги для сообщения определённой информации участникам дорожного движения.
4. Транспортное средство на двух колёсах.
5. Чем пользуется регулировщик, когда руководит движением транспорта и пешеходов на перекрёстке?
6. Место пересечения, примыкания или разветвления дорог на одном уровне.
7. Элемент дороги, предназначенный для движения пешеходов, примыкающий к проезжей части или к велосипедной дорожке. Либо отделённый от них газоном.
8. Человек, который совершает поездку на каком-либо виде транспорта, не управляя им.

9. Устройство, которое своими световыми сигналами разрешает или запрещает движение транспорта и пешеходов.
10. Человек, управляющий транспортным средством.
11. Элемент дороги, примыкающий к проезжей части на одном уровне с ней и отличающийся от неё другим покрытием либо обозначающийся разметкой.
12. Лицо, находящееся вне транспортного средства на дороге, на пешеходной или велопешеходной дорожке.

Задание 10. Разгадайте ребус.



Ответ _____

Задание 11. Какой пешеходный переход обозначает данная разметка?



- а) только регулируемый;
- б) только нерегулируемый;
- в) любой.

Задание 12. Выберите верное утверждение.

- а) В соответствии с правилами дорожного движения в легковом автомобиле перевозка детей до 11 лет (включительно) возможна только с использованием детского удерживающего устройства или ремней безопасности.
- б) В соответствии с правилами дорожного движения человек, использующий для передвижения скейтборд или самокат, является водителем.

Задание 13. Творческое задание.

Сделайте фотоколлаж «Я знаю и соблюдаю ПДД!». (Приложить фото).

Задание 14. Творческое задание.

Создайте макет улицы из подручных средств. Разместите на макете следующие элементы: пешеходный переход, перекрёсток, остановку общественного транспорта, вход в подземный пешеходный переход и выход из него. (Приложить фото).

Задания для обучающихся 4 классов

Дорогой участник! При решении олимпиады тебе необходимо выбрать правильный ответ и отметить. Если в задании требуется выполнить другие действия, то следуй их указаниям. Желаем тебе приятного участия и победы!

Задание 1. Для чего предназначен островок безопасности?

- а) для работы регулировщика;
- б) для остановки транспортных средств;
- в) для инвалидов колясок;
- г) для остановки пешеходов во время перехода дороги.

Задание 2. Кто может осуществлять движение при поднятой руке с жезлом регулировщика?

- а) транспортные средства и пешеходы;
- б) только транспортные средства;
- в) никто не может осуществлять движение;
- г) только пешеходы.

Задание 3. Обведите дорожный знак, который запрещает движение на велосипеде.



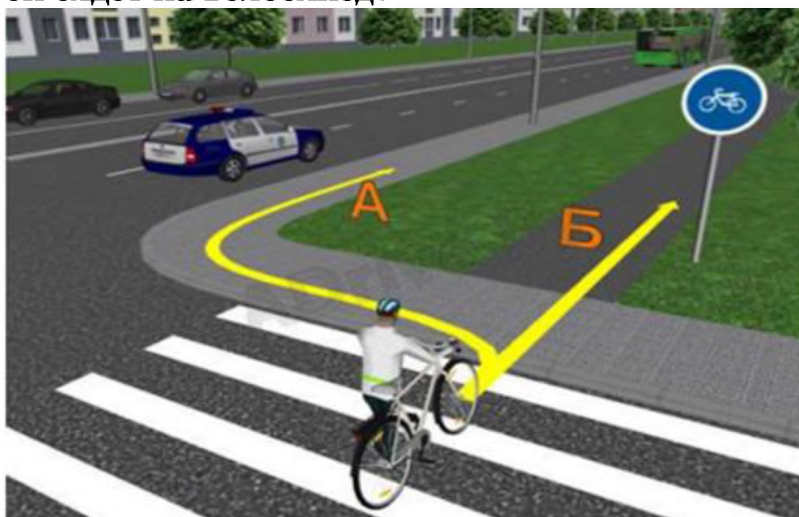
Задание 4. В каких местах запрещено пешеходу переходить через дорогу?

- а) на крутых поворотах;
- б) в местах, где дорога идет на подъем;
- в) около туннелей и мостов;
- г) во всех перечисленных случаях.

Задание 5. К какой группе участников дорожного движения относится человек, использующий для передвижения роликовые коньки, скейтборд, самокат?

- а) пешеход;
- б) пассажир;
- в) водитель;
- г) наездник.

Задание 6. По какой дороге должен продолжить движение пешеход, если он сядет на велосипед?



- а) только по А;
- б) только по Б;
- в) по любой дороге;
- г) движение велосипедов запрещено.

Задание 7. Правильно соотнесите знак и категорию. Внесите номера знаков во вторую таблицу.

1	2	3	4	5	6
7	8	9	10	11	12


запрещающие знаки	предписывающие знаки	знаки особых предписаний	предупреждающие знаки	знаки приоритета

Задание 8. Дополните определение.

Пассажир — лицо, кроме _____, находящееся в транспортном средстве (на нём), а также лицо, которое _____ в транспортное средство (садится на него) или _____ из транспортного средства (сходит с него).

Трамвай — это рельсовое маршрутное _____ средство _____ пользования, предназначенное для перевозки по дорогам _____ и движущееся по установленному _____ с обозначенными местами остановок.

Задание 9. Решите кроссворд. Из выделенных букв соберите слово.



Ответ _____

1. Транспортное средство на двух колёсах.
2. Средство индивидуальной защиты головы человека, надеваемое для защиты от травм и ранений.

3. Световозвращающее устройство для обеспечения безопасности пешеходов в тёмное время суток.

4. Элемент дороги, предназначенный для движения пешеходов, примыкающий к проезжей части или к велосипедной дорожке. Либо отделённый от них газоном.

5. Человек, который совершает поездку на каком-либо виде транспорта, не управляя им.

6. Это специально выделенный участок проезжей части или трамвайных путей для движения пешеходов через дорогу.

7. Экипировка велосипедиста - это от возможных травм.

8. Устройство, которое своими световыми сигналами разрешает или запрещает движение транспорта и пешеходов.

9. Место пересечения, примыкания или разветвления дорог на одном уровне.

10. Человек, управляющий транспортным средством.

11. Маршрутное транспортное средство общего пользования, предназначенное для перевозки по дорогам людей и движущееся по установленному маршруту с обозначенными местами остановок.

12. Обустроенная или приспособленная и используемая для движения транспортных средств полоса земли либо поверхность искусственного сооружения.

Задание 10. Разгадайте ребус



Ответ _____

Задание 11. Установите правильную последовательность действий перехода проезжей части дороги при включении зеленого сигнала пешеходного светофора.

а) Остановиться у края тротуара. → Переходить проезжую часть дороги, контролируя ситуацию (быстро, но не бегом). → Посмотреть налево, направо и еще раз налево и убедиться, что транспортные средства остановились и пропускают пешеходов.

б) Остановиться у края тротуара. → Посмотреть налево, направо и еще раз налево и убедиться, что транспортные средства остановились и пропускают

пешеходов. ➡ Переходить проезжую часть дороги, контролируя ситуацию (быстро, но не бегом).

в) Посмотреть налево, направо и еще раз налево и убедиться, что транспортные средства остановились и пропускают пешеходов. ➡ Переходить проезжую часть дороги, контролируя ситуацию (быстро, но не бегом).

➡ Остановиться у края тротуара.

Задание 12. Данная разметка обозначает:



- а) место, где начинается (заканчивается) жилая зона;
- б) место, где начинается (заканчивается) зона с ограничением стоянки;
- в) пешеходный переход;
- г) искусственную неровность на проезжей части.

Задание 13. Творческое задание.

Сделайте фотоколлаж «Я знаю и соблюдаю ПДД!». (Приложить фото).

Задание 14. Творческое задание.

Создайте макет улицы из подручных средств. Разместите на макете следующие элементы: пешеходный переход, перекрёсток, остановку общественного транспорта, вход в подземный пешеходный переход и выход из него. (Приложить фото).