

## Вопросы и задания для учащихся 3 классов

1. Назови участников дорожного движения.

Ответ: \_\_\_\_\_

2. Напиши обязанности пассажиров.

Ответ: \_\_\_\_\_

3. Какие сигналы регулировщика для пешеходов ты знаешь?

Ответ: \_\_\_\_\_

4. Задача: Четыре мальчика и две девочки поехали кататься на велосипедах по улицам города. Одной девочке было 13 лет, остальным по 15 лет. Сколько человек поступило правильно? Обоснуй ответ.

Ответ: \_\_\_\_\_




5. Каким преимуществом пользуются оперативные автомобили, выполняющие неотложные задания?

Ответ: \_\_\_\_\_

6. Где надо ходить по улице, дороге, если нет тротуара?

Ответ: \_\_\_\_\_

7. Найди правильный ответ

|   |  |
|---|--|
|  | <ul style="list-style-type: none"><li>1. Жилая зона</li><li>2. Детский сад</li><li>3. Можно играть на проспекте</li></ul>                                    |
|  | <ul style="list-style-type: none"><li>1. Дети!</li><li>2. Добро пожаловать в школу!</li><li>3. Детям проход воспрещён!</li></ul>                             |
|  | <ul style="list-style-type: none"><li>1. Путь закрыт.</li><li>2. Железнодорожный переезд со шлагбаумом.</li><li>3. Осторожно, забор и злая собака!</li></ul> |

8. Какие из перечисленных ситуаций могут стать причинами дорожно-транспортных происшествий?

А) Переход дороги в неустановленном месте.

Б) Игры на проезжей части.

В) Хожение по проезжей части дороги.

Ответ (укажи букву): \_\_\_\_\_

9. Отгадай загадку и нарисуй знак:

На машинах здесь, друзья,

Ехать никому нельзя,

Можно ехать, знаете, дети.

Только на велосипеде.

Ответ: \_\_\_\_\_

10. Отгадай загадку, приведи пример каждого вида знаков и нарисуй их:

Красный круг и треугольник,

Синий четырехугольник,

Помогаем, запрещаем,

Про дорогу все мы знаем,

Где опасность, где овраги.

А зовемся просто ...

|  |  |  |  |
|--|--|--|--|
|  |  |  |  |
|  |  |  |  |

11. Пассажиру общественного транспорта нельзя:

А) Разговаривать с другими пассажирами

Б) Отвлекать водителя и разговаривать с ним во время движения

В) Держаться за поручень

Ответ (укажите букву): \_\_\_\_\_

12. Каким правилам подчиняется велосипедист на пешеходном переходе?


А) Правилам для водителей.

Б) Правилам для пешеходов.

В) Правилам для мотоциклистов.

Ответ (укажите букву): \_\_\_\_\_

13. Выполни сложение символов и нарисуй или приклей результат – знак дорожного движения.



14. Для чего необходимо носить световозращатели пешеходам?

- А) Чтобы не потеряться в темноте
- Б) Использовать в качестве фонарика
- В) Для обеспечения безопасности на дорогах
- Г) Это модно

Ответ (укажите букву): \_\_\_\_\_

15. Кто на картинке ведет себя правильно, а кто неправильно? Обведи: красным цветом – неправильно; зеленым цветом – правильно.



### Творческие задания

13 апреля празднуется день рождения троллейбуса. Троллейбус вначале воспринимается как некий гибрид автобуса и трамвая и рассматривался как средство пригородного сообщения, а стал общественным транспортом №1 во многих городах. В этом году ему исполняется 124 года. В честь этого праздника сделай красочную поздравительную открытку, а внутри напиши свои пожелания имениннику.